





Direzione Didattica Statale Secondo Circolo  
"Don Bosco"  
Cod. mec. NAEE24200V  
Via Taverna – 80024 Cardito (NA)  
Tel 081 8348455 – Fax 081 8348326  
C.F. 93006900638  
[naee24200v@istruzione.it](mailto:naee24200v@istruzione.it) - [card2@tiscali.it](mailto:card2@tiscali.it)  
<http://www.scuoladonbosco.it>



RILEVAZIONE DEGLI APPRENDIMENTI

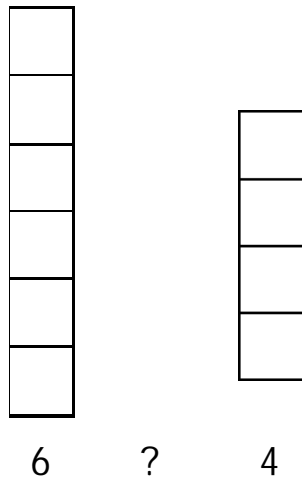
# PROVA DI MATEMATICA

Finale

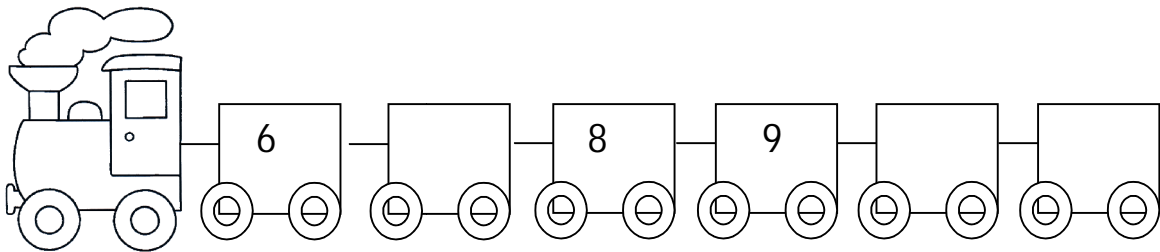
CLASSE .....SEZ.....

Anno scolastico 2012-13

Leggi la consegna e completa mettendo le crocette.



- Quale segno metteresti tra i due numeri?  
A.  >  
B.  <  
C.  =
- Quale numero manca nella successione dei numeri?

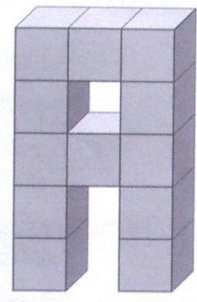


- Quale numero corrisponde a 1 decina e 2 unità?  
A.  21  
B.  12  
C.  20
- Qual è il risultato della seguente operazione?

$$8 + 4 = \underline{\quad}$$

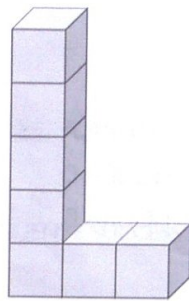
- A.  12
- B.  13
- C.  14

- Quanti cubetti contiene la figura?




- A.  10
- B.  11
- C.  12

- Quanti cubetti contiene la figura?



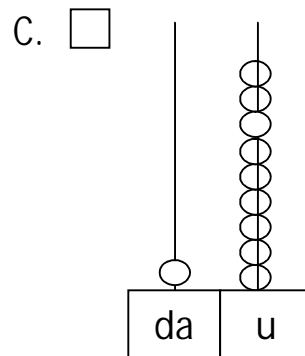
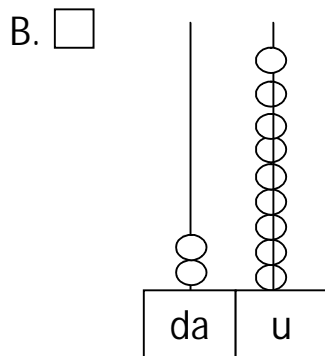
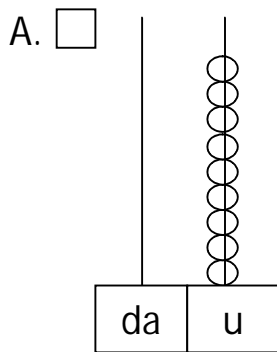
- A.  6
- B.  7
- C.  8

- Con quale operazione calcoli il numero di cubetti delle due figure?



- A.   $12 + 7 =$
- B.   $12 - 7 =$
- C.   $12 + 6 =$

- Quale abaco è quello corretto per il numero 19?




- Quale segnale è un triangolo?

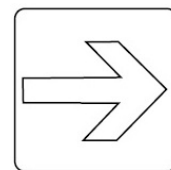
A.



B.



C.



- Qual è il risultato della seguente operazione?

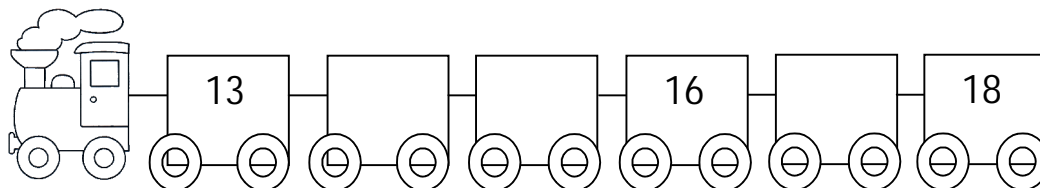
$$9 - 5 = \underline{\quad}$$

A.  3

B.  4

C.  5

- Quale numero manca nella successione dei numeri?

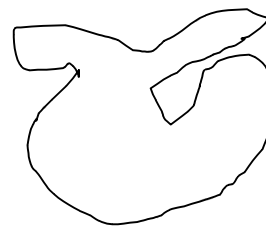



• Quale figura è una linea aperta?

A.

B.

C.





• Qual è l'intruso?

A.

B.

C.



• Quale numero manca per completare la sottrazione?










$$15 - \underline{\quad} = 10$$

A.  6

B.  5

C.  4

• In quale casella si trova l'ape? Scrivilo nel rettangolo.

	1	2	3
A			
B			
C			

FINE